

**ASA – ASSISTENTE ADMINISTRATIVO**  
**01ASA – SUPRIMENTOS**  
**02ASA – CONCESSÕES**

Nome do Candidato

Número de Inscrição

--	--	--	--	--	--	--	--	--	--	--	--	--	--	--	--	--	--	--	--

## LEIA COM ATENÇÃO AS INSTRUÇÕES ABAIXO

### INSTRUÇÕES GERAIS

- O candidato receberá do fiscal:  
Um Caderno de Questões contendo **50 (cinquenta) questões** objetivas de múltipla escolha.  
Uma Folha de Respostas personalizada para a Prova Objetiva.
- Ao ser autorizado o início da prova, verifique, no Caderno de Questões, se a numeração das questões e a paginação estão corretas e se não há falhas, manchas ou borrões. Se algum desses problemas for detectado, solicite ao fiscal outro caderno completo. Não serão aceitas reclamações posteriores.
- A totalidade das Provas terá a duração de **4 (quatro) horas**, incluindo o tempo para preenchimento da Folha de Respostas da Prova Objetiva.
- O candidato poderá se retirar da sala de prova após transcorridas **2 (duas) horas** do efetivo início da prova, entregando sua Folha de Respostas ao fiscal, a qual será o único documento válido para a correção.
- O candidato somente poderá levar o Caderno de Questões faltando **60 (sessenta) minutos** para o término do horário estabelecido para o fim da prova, desde que o candidato permaneça em sala até esse momento, deixando com o fiscal de sala a sua Folha de Respostas.
- Não serão permitidas consultas a quaisquer materiais, uso de telefone celular ou outros aparelhos eletrônicos.
- Caso seja necessária a utilização do sanitário, o candidato deverá solicitar permissão ao fiscal de sala, que designará um fiscal volante para acompanhá-lo no deslocamento, devendo manter-se em silêncio durante o percurso, podendo, antes da entrada no sanitário e depois da utilização deste, ser submetido a revista com detector de metais. Na situação descrita, se for detectado que o candidato estiver portando qualquer tipo de equipamento eletrônico, será eliminado automaticamente do concurso.
- Após o término da prova, ao sair da sala de prova, o candidato deverá retirar-se imediatamente do local de realização das provas, não podendo permanecer nas suas dependências, bem como não poderá utilizar os sanitários.

### ATENÇÃO

- Verifique se seus dados estão corretos na Folha de Respostas.
- A Folha de Respostas **NÃO** pode ser dobrada, amassada, rasurada, manchada ou conter qualquer registro fora dos locais destinados às respostas.
- Assinale a alternativa que julgar correta para cada questão na Folha de Respostas, usando caneta esferográfica de tinta preta ou azul. Para cada questão, existe apenas **1 (uma)** resposta certa – não serão computadas questões não assinaladas ou que contenham mais de uma resposta, emendas ou rasuras.
- O modo correto de assinalar a alternativa é cobrindo, completamente, o espaço a ela correspondente, conforme modelo abaixo:



- Todas as questões deverão ser respondidas.

**OS TEXTOS E AS QUESTÕES FORAM REDIGIDOS CONFORME O NOVO ACORDO ORTOGRÁFICO DA LÍNGUA PORTUGUESA, MAS ESTE NÃO SERÁ COBRADO NO CONTEÚDO.**



CONCURSOS PÚBLICOS

02/2012

Espaço reservado para anotação das respostas

## SPOBRAS – SÃO PAULO OBRAS – CONCURSO PÚBLICO – EDITAL 01/2012

ASA – ASSISTENTE ADMINISTRATIVO  
01ASA – SUPRIMENTOS / 02ASA – CONCESSÕES



Nome: \_\_\_\_\_ Inscrição: \_\_\_\_\_

1	2	3	4	5	6	7	8	9	10	11	12	13	14	15	16	17	18	19	20
21	22	23	24	25	26	27	28	29	30	31	32	33	34	35	36	37	38	39	40
41	42	43	44	45	46	47	48	49	50										

O gabarito da Prova Objetiva estará disponível no site da **Cetro Concursos (www.cetroconcursos.org.br)** a partir do dia **28 de fevereiro de 2012**.



## LÍNGUA PORTUGUESA

Leia o texto abaixo para responder as questões 1 e 2.

“Alguma coisa acontece no nosso coração, o centro de São Paulo. Os cerca de 8 milhões de paulistanos que nunca ou raramente passam por lá terão surpresas se forem passear pela região compreendida entre a Praça da Sé e a Praça da República. Além dos símbolos históricos bem conservados e iluminados à noite por holofotes que valorizam sua arquitetura – o Pátio do Colégio, o Teatro Municipal, a Catedral –, há centros culturais com uma programação variada, bares movimentados, alguns bons restaurantes e dois novos hotéis de grandes redes internacionais. Na antiga Estação Júlio Prestes, a magnífica Sala São Paulo, apesar da vizinhança deteriorada, consolidou-se como um centro musical de primeiro mundo.

A iniciativa privada e o poder público voltaram a investir numa área que, poucos anos atrás, parecia condenada à decadência e ao abandono. Vários prédios passaram por recuperação. Postes receberam pintura, lâmpadas de mercúrio foram substituídas pelas de sódio, mais potentes, e os novos globos, com refletores internos, multiplicaram o alcance da luz.

A decadência do centro começou na década de 70, com a transferência de bancos e grandes empresas para a Avenida Paulista e, mais tarde, para a Zona Sul. ‘A lógica do automóvel foi abrindo outros bairros e deixando para trás espaços degradados’, explica o urbanista Cândido Malta. Não se tratou de um fenômeno exclusivo de São Paulo. Metrôpoles americanas e europeias enfrentaram problema semelhante. Cada uma a sua maneira, no entanto. Nova York, Chicago, Boston, Londres e Paris souberam reabilitar suas regiões centrais. ‘Agora chega o momento de colher os frutos’, diz Marco Antonio Ramos de Almeida, presidente da Associação Viva o Centro, entidade criada por empresários que, há doze anos, se empenha em recuperar a região. ‘A identidade do paulistano está no centro. Mantê-lo em ordem é fundamental para sua autoestima.’ ”

Trecho da reportagem *Um sopro de renovação*, de Lúcia Monteiro, publicada na *Veja São Paulo*, em 23/10/2003.

1. A partir da leitura do texto, é possível afirmar que
  - (A) apesar dos investimentos do poder público e da iniciativa privada, nada mudou na região central de São Paulo.
  - (B) a decadência do centro se deu única e exclusivamente pela “lógica do automóvel”, que foi abrindo caminho para outros bairros.
  - (C) o centro faz parte da identidade do paulistano, por isso, mantê-lo conservado é importante para a sua autoestima.
  - (D) os paulistanos deixaram de frequentar o centro devido à iluminação precária e à falta de opções culturais e de lazer.
  - (E) esse foi um problema que aconteceu apenas em São Paulo, porque as demais metrôpoles, como Nova York, Chicago, Boston, Londres e Paris souberam cuidar de suas regiões centrais.

2. O texto afirma que muitos paulistanos que raramente passam por lá terão surpresas ao ir à região. Essa surpresa se deve ao(a)
  - (A) fato de existirem vários símbolos históricos na região.
  - (B) vizinhança deteriorada da Sala São Paulo.
  - (C) “lógica do automóvel”.
  - (D) revitalização da região central.
  - (E) transferência de bancos e de grandes empresas para a Avenida Paulista.

3. De acordo com a norma-padrão da Língua Portuguesa, assinale a alternativa em que a pontuação foi usada corretamente.
  - (A) Posso ajudar, senhor?
  - (B) Marcus, ontem saiu mais cedo de casa.
  - (C) Os candidatos que não chegarem, até 8h não poderão fazer a prova.
  - (D) É preciso que, todos ajudem na elaboração do projeto.
  - (E) A atendente informou que devido à lotação da casa noturna, não poderia liberar a entrada.

4. Assinale a alternativa que **não** apresenta erro de ortografia.
  - (A) Comeu uma tijela com cereais.
  - (B) Você não tem autorização para mecher nesses documentos.
  - (C) A acessoria de imprensa do hospital informou que o atendimento já foi normalizado.
  - (D) O que aconteceu não foi apenas um pequeno deslize, mas uma falha grave.
  - (E) Possuía ojeriza de certas pessoas.

5. Assinale a alternativa que apresenta a mesma figura de sintaxe da frase: "Pedro chegou antes da hora, André, atrasado".

- (A) As pessoas, ali, eram pálidas, tristes, fracas, abatidas, quase mortas já.
- (B) Aqui, todos somos importantes.
- (C) Entre para dentro, menino.
- (D) O meu quarto estava todo bagunçado, o dela, completamente organizado.
- (E) Ele acorda, e corre, e trabalha, e estuda, e volta, e dorme.

6. "Devido ao trânsito, **ninguém** chegou na hora." Assinale a alternativa cujo vocábulo destacado pertence à mesma classe gramatical de "ninguém".

- (A) A **obra** deve terminar impreterivelmente amanhã.
- (B) É preciso derrubar aquelas duas paredes **verdes**.
- (C) O meu avô **construiu** a própria casa.
- (D) **Todos** participaram do evento.
- (E) **Conforme** solicitado, segue o orçamento do projeto.

7. Leia as frases abaixo e, em seguida, assinale a alternativa que preenche correta e respectivamente as lacunas.

- I. Eu precisava de uma semana para estudar toda a matéria, \_\_\_\_\_ só tinha um dia.
  - II. A minha senha \_\_\_\_\_ ontem. Agora, não consigo acessar o sistema.
  - III. O documento está incorreto. É preciso \_\_\_\_\_.
  - IV. Às 18h, o \_\_\_\_\_ costuma ficar congestionado.
  - V. Ontem, no meu bairro, choveu até \_\_\_\_\_.
- (A) I. mais/ II. expirou/ III. retificá-lo/ IV. tráfego/ V. granito
  - (B) I. mas/ II. aspirou/ III. ratificá-lo/ IV. tráfico/ V. granito
  - (C) I. mas/ II. expirou/ III. retificá-lo/ IV. tráfego/ V. granizo
  - (D) I. mais/ II. aspirou/ III. ratificá-lo/ IV. tráfico/ V. granizo
  - (E) I. mas/ II. expirou/ III. ratificá-lo/ IV. tráfego/ V. granito

8. De acordo com a norma-padrão da Língua Portuguesa, assinale a alternativa correta em relação à crase.

- (A) Devido à chuvas, o trânsito ficou parado.
- (B) O e-mail já foi enviado à todos os funcionários.
- (C) Carlos trabalha de segunda à sexta.
- (D) Todos foram à festa de aniversário de Paulo.
- (E) Depois do almoço, começaram à arrumar as malas.

9. De acordo com a norma-padrão da Língua Portuguesa e em relação à concordância verbal e nominal, assinale a alternativa correta.

- (A) Haviam muitas pessoas na sala de espera.
- (B) "Muito obrigado", agradeceu a moça.
- (C) Ela saiu para almoçar ao meio-dia e meio.
- (D) Faz cinco anos que nos mudamos para cá.
- (E) Devem haver umas duas mil pessoas aqui.

10. "Certamente, **ele** virá nos visitar." Assinale a alternativa cujo termo destacado exerce a mesma função sintática que "ele".

- (A) **Os moradores do meu prédio** fizeram uma homenagem para os meus avôs.
- (B) Luciana entregou a pasta a **ele**.
- (C) As férias terminam **na próxima semana**.
- (D) Apesar de tudo, eles **a** ajudaram.
- (E) Depois de anos, **finalmente**, ele aprendeu a falar inglês.

### RACIOCÍNIO LÓGICO

11. Em uma prova de automobilismo, o automóvel de um participante quebra ao completar  $\frac{3}{10}$  do percurso total da prova. No entanto, se tivesse percorrido 20km a mais, teria cumprido a metade do percurso total. Dessa forma, assinale a alternativa correta em relação ao percurso total da prova.

- (A) 50km.
- (B) 60km.
- (C) 70km.
- (D) 80km.
- (E) 100km.

12. Uma poltrona foi vendida por R\$470,40 com prejuízo de 16% sobre o preço de custo. Assinale a alternativa que indica o preço da poltrona.

- (A) R\$545,66.
- (B) R\$548,50.
- (C) R\$554,00.
- (D) R\$560,00.
- (E) R\$564,80.

13. A soma de dois números é 65, e a razão entre eles é  $\frac{5}{8}$ .

Portanto, o dobro do menor número é

- (A) 30.
- (B) 40.
- (C) 50.
- (D) 70.
- (E) 80.

14. Leia a o trecho abaixo e, em seguida, assinale a alternativa que preenche corretamente a lacuna.

As dificuldades de dois trabalhos de tradução estão numa razão de 4 para 7. Um tradutor, que traduz 35 páginas do primeiro trabalho, traduzirá \_\_\_\_\_ páginas do segundo, na mesma duração de tempo.

- (A) 20
- (B) 25
- (C) 30
- (D) 45
- (E) 60

15. Levando em consideração a sequência: 13, 17, 25, 32, 37,..., assinale a alternativa que apresenta o próximo número.

- (A) 41.
- (B) 43.
- (C) 47.
- (D) 52.
- (E) 54.

16. Se o ponteiro dos minutos de um relógio se move a partir de 06h30min da manhã às 10h30min da manhã, então o número de vezes que este ponteiro passa pelo ponteiro das horas é

- (A) 3.
- (B) 4.
- (C) 5.
- (D) 6.
- (E) 7.

## INFORMÁTICA

17. Sobre os conceitos de hardware e software, correlacione as colunas e, em seguida, assinale a alternativa que apresenta a sequência correta.

1. Hardware	( )	São as partes lógicas: os programas, o sistema operacional, dados, o compilador.
	( )	Placa de som, vídeo, modem, placa de rede, placa-mãe, processador.
2. Software	( )	É a parte física do computador, é o conjunto de componentes eletrônicos, circuitos integrados e placas, que se comunicam através de barramentos.
	( )	É utilizado para gerir o funcionamento do computador e ampliar sua potencialidade.

- (A) 2/ 1/ 1/ 2
- (B) 1/ 2/ 2/ 1
- (C) 2/ 1/ 2/ 1
- (D) 1/ 2/ 1/ 2
- (E) 2/ 2/ 1/ 1

18. A extensão padrão de arquivos utilizados no pacote Office para o editor de planilhas da Microsoft e para o Bloco de Notas do Windows XP são, respectivamente,

- (A) .docx e .odt
- (B) .avi e .xls
- (C) .xls e .txt
- (D) .jpeg e .docx
- (E) .txt e .odt

19. Em relação à intranet e à internet, analise as assertivas abaixo.

- I. A intranet é uma rede mundial de computadores.
- II. A internet é uma rede de computadores interligados em uma rede local por provedor externo de acesso restrito.
- III. A intranet é um importante veículo de informação interna entre a organização e os funcionários.

É correto o que se afirma em

- (A) I e II, apenas.
- (B) III, apenas.
- (C) I, II e III.
- (D) I e III, apenas.
- (E) II e III, apenas.

20. Em referência ao editor de texto Word 2010 (versão em português), marque V para verdadeiro ou F para falso e, em seguida, assinale a alternativa que apresenta a sequência correta.






- ( ) A combinação das teclas ALT + I é utilizada como atalho para imprimir um trecho selecionado do arquivo em uso.
- ( ) Não é possível proteger arquivos confidenciais, somente em versões anteriores.
- ( ) A combinação de teclas CTRL + S é utilizada como atalho para salvar o arquivo que está em uso.

- (A) V/ V/ V
- (B) F/ F/ V
- (C) V/ F/ F
- (D) V/ V/ F
- (E) F/ F/ F

21. Acerca do modo de navegação *InPrivate*, no Internet Explorer 8, assinale a alternativa **incorreta**.

- (A) O histórico da página da web e os dados de formulário e senhas são informações que não ficam armazenadas.
- (B) Uma das formas para ativar o modo de navegação *InPrivate* é combinar as teclas CTRL + SHIFT + P.
- (C) Para finalizar a sessão da Navegação *InPrivate*, o usuário precisa reiniciar o computador e alterar a configuração de segurança no painel de controle.
- (D) Na navegação *InPrivate*, o Internet Explorer armazenará algumas informações – como cookies e arquivos de Internet temporários – que ao final da sessão são descartadas.
- (E) As informações contidas na barra de endereços e no preenchimento automático da pesquisa não são armazenadas no modo *InPrivate*.

22. No editor de texto Word 2007 (versão em português), a combinação das teclas CTRL + B corresponde à figura

- (A) 
- (B) 
- (C) 
- (D) 
- (E) 

## CONHECIMENTOS GERAIS

23. Ela tomou posse como presidente da Petrobras no dia 13 de fevereiro de 2012, no Salão Nobre do edifício sede da companhia, no Rio de Janeiro. A nova presidente da empresa substituirá José Sergio Gabrielli de Azevedo. Trata-se de

- (A) Bendita da Silva.
- (B) Tereza Campello.
- (C) Maria das Graças Silva Foster.
- (D) Miriam Belchior.
- (E) Iriny Lopes.

24. Em fevereiro deste ano comemoram-se 90 anos deste movimento que foi um marco do Modernismo no Brasil. Artistas como Anita Malfatti, Mário de Andrade e Oswald de Andrade participaram desta manifestação cultural chamada

- (A) Tropicália.
- (B) Poesia Concreta.
- (C) Movimento Antropofágico.
- (D) Semana de Arte Moderna de 1922.
- (E) Movimento Pau-Brasil.

25. Desde o dia 25 de janeiro de 2012 os estabelecimentos comerciais da cidade de São Paulo deixaram de fornecê-las aos consumidores. A lei que proíbe seu uso visa a poupar os recursos naturais, diminuir a poluição do meio ambiente, entre outros. Tratam-se das

- (A) garrafas plásticas.
- (B) embalagens plásticas.
- (C) sacolas plásticas.
- (D) garrafas de vidro.
- (E) sacolas reutilizáveis.

26. Leia o trecho abaixo e, em seguida, assinale a alternativa que preenche corretamente a lacuna.

Os ministros de Finanças da Eurozona (Eurogrupo) reuniram-se em 20 de fevereiro de 2012, em Bruxelas, para decidir a aprovação do segundo pacote de ajuda à \_\_\_\_\_, com a finalidade de evitar que o país declarasse moratória. Na reunião, os ministros discutiram principalmente a liberação de um resgate de 130 bilhões de euros e sobre o perdão por parte dos credores privados de cerca de 100 bilhões de euros em títulos da dívida daquele país.

- (A) Espanha
- (B) Itália
- (C) Inglaterra
- (D) Grécia
- (E) Alemanha

27. Leia o trecho abaixo e, em seguida, assinale a alternativa que preenche corretamente a lacuna.

Em fevereiro de 2012, o \_\_\_\_\_ interrompeu as exportações de petróleo para seis países europeus em retaliação pelo fato de a União Europeia (UE) ter imposto sanções às importações do produto, principal fonte de renda do país.

- (A) Egito
- (B) Líbano
- (C) Irã
- (D) Iêmen
- (E) Afeganistão

28. Em 18 de novembro de 2011, a presidente Dilma Rousseff sancionou a lei que a criou com o objetivo de investigar, em dois anos, violações de direitos humanos ocorridas entre 1946 e 1988. Trata-se do(a)

- (A) Comissão Nacional da Verdade.
- (B) Ficha Limpa.
- (C) Acesso à Informação.
- (D) Conselho de Ética.
- (E) Intervenção Federal nos Estados.

### CONHECIMENTOS ESPECÍFICOS

29. Acerca dos princípios constitucionais de Direito Administrativo, analise as assertivas abaixo.

- I. O rol de princípio da Administração Pública na Constituição Federal é taxativo.
- II. Há hierarquia entre os princípios da Administração Pública.
- III. Os princípios constitucionais de Direito Administrativo são também chamados princípios básicos.
- IV. No tocante ao princípio da legalidade, enquanto os indivíduos no campo privado podem fazer tudo o que a lei não veda, o administrador público só pode atuar onde a lei autoriza.

É correto o que se afirma em

- (A) IV, apenas.
- (B) I, II, III e IV.
- (C) I, II e IV, apenas.
- (D) III e IV, apenas.
- (E) II, apenas.

30. Ao assumir o cargo, um prefeito imediatamente tomou duas decisões: pintar todos os órgãos públicos iguais às cores de sua empresa particular e estampar o símbolo de sua campanha eleitoral em todas as obras do município. Fazendo isso, o Prefeito ofendeu, diretamente, o princípio administrativo de

- (A) impessoalidade.
- (B) legalidade.
- (C) eficiência.
- (D) proporcionalidade.
- (E) publicidade.

31. Agente que frustra a licitude de processo licitatório ou dispensa-o indevidamente pratica conduta que afronta diretamente o princípio de

- (A) moralidade.
- (B) publicidade.
- (C) razoabilidade.
- (D) eficiência.
- (E) transparência.

32. Com relação à lei de licitações públicas, analise as assertivas abaixo.

- I. A lei de licitações e contratos administrativos aplica-se aos órgãos da administração direta, aos fundos especiais, autarquias, fundações públicas e demais entidades controladas direta ou indiretamente pela União, Estado, Distrito Federal e Municípios, mas não se aplica às empresas públicas e sociedades de economia mista.
- II. Considera-se contrato administrativo todo e qualquer ajuste entre órgãos ou entidades da Administração Pública e particulares em que haja acordo de vontade para formação do vínculo e a estipulação de obrigações recíprocas, seja qual for a denominação utilizada.
- III. A lei de licitações públicas não se aplica a serviços de publicidade.
- IV. Regra geral, admite-se estabelecimento de preferência ou distinções em razão da naturalidade, da sede ou domicílio dos licitantes em observância ao princípio da celeridade.

É correto o que se afirma em

- (A) II e III, apenas.
- (B) II, apenas.
- (C) I, apenas.
- (D) II e IV, apenas.
- (E) IV, apenas.

33. A administração gerencial, relacionada com os conceitos de boa administração, flexibilização e controle finalístico é consequência do princípio constitucional administrativo de

- (A) eficiência.
- (B) publicidade.
- (C) legalidade.
- (D) isonomia.
- (E) formalidade.

34. São princípios básicos a serem observados no processamento e julgamento das licitações, **exceto**

- (A) Julgamento objetivo.
- (B) Igualdade.
- (C) Probidade administrativa.
- (D) Vinculação ao instrumento convocatório.
- (E) Julgamento subjetivo.

35. Nos processos de licitação, afirma a lei que poderão ser estabelecidas margens de preferência para produtos manufaturados e para serviços nacionais que atendam a normas técnicas brasileiras. Sobre o estabelecimento dessa margem de preferência, analise as assertivas abaixo.

- I. O estabelecimento da margem de preferência para produtos manufaturados e serviços nacionais que atendam a normas técnicas brasileiras deverá pautar-se por estudos revistos periodicamente em prazo não superior a 10 anos.
- II. Em nenhuma hipótese será possível o estabelecimento de margem de preferência adicional ao já estabelecido para manufaturados e serviços nacionais que atendam às normas técnicas brasileiras.
- III. As margens de preferência serão definidas pelo Poder Executivo federal e sua soma não poderá ultrapassar o montante de 25% sobre o preço dos produtos manufaturados e serviços estrangeiros.
- IV. Não se aplica margem de preferência aos bens e serviços cuja capacidade de produção ou prestação no País seja inferior à quantidade a ser adquirida ou contratada.

É correto o que se afirma em

- (A) III e IV, apenas.
- (B) I, II, III e IV.
- (C) I, apenas.
- (D) I, II e IV, apenas.
- (E) II e III, apenas.

36. Nas comemorações do aniversário da cidade de São Paulo, o prefeito resolve instituir uma premiação, conforme critérios constantes de edital publicado na imprensa oficial, para a melhor redação entre alunos de escola pública sobre as belezas naturais do município. Neste caso, será adotado(a) como modalidade de licitação o(a)

- (A) concorrência.
- (B) tomada de preços.
- (C) convite.
- (D) concurso.
- (E) leilão.

37. As modalidades são ritos previstos em lei para se realizar uma licitação, reafirmando, assim, os princípios da isonomia e da competitividade. Desta forma, **não** é considerado(a) modalidade de licitação o(a)

- (A) concorrência.
- (B) menor preço.
- (C) tomada de preços.
- (D) leilão.
- (E) convite.

38. Sobre licitações e contratos administrativos, correlacione as colunas abaixo e, em seguida, assinale a alternativa que apresenta a sequência correta.

1. Empreitada por preço global.	( )	Execução da obra ou do serviço por preço certo e total.
2. Empreitada por preço unitário.	( )	Contratação de um empreendimento em sua integralidade.
3. Tarefa.	( )	Ajuste de mão de obra para pequenos trabalhos por preço certo, com ou sem fornecimento de materiais.
4. Empreitada integral.	( )	Execução da obra ou do serviço por preço certo de unidades determinadas.

- (A) 1/ 4/ 2/ 3
- (B) 1/ 4/ 3/ 2
- (C) 2/ 1/ 3/ 4
- (D) 4/ 3/ 1/ 2
- (E) 3/ 4/ 2/ 3



39. Esse ano, a Prefeitura da cidade de Mombaça quer tornar as festas de carnaval da cidade conhecidas por toda região. Para tanto, os gestores administrativos do município resolveram contratar os cantores mais consagrados do momento para três dias de shows. Vislumbrando essa situação hipotética, podemos dizer que a licitação para contratar os artistas será

- (A) dispensada.
- (B) dispensável.
- (C) exigível.
- (D) inexigível.
- (E) obrigatória.

40. Assinale a opção que corresponde à modalidade de licitação em que o procedimento **não** é aberto a todos os interessados, e sim aos cadastrados ou não, escolhidos em número mínimo de três pela unidade administrativa.

- (A) Concorrência.
- (B) Tomada de preço.
- (C) Leilão.
- (D) Concurso.
- (E) Convite.

41. Quando se pretende vender bens móveis inservíveis para a administração, é utilizado(a) a modalidade de licitação chamada

- (A) pregão.
- (B) concurso.
- (C) leilão.
- (D) consulta.
- (E) convite.

42. São classificados(as) como bens públicos dominicais

- (A) os rios e mares.
- (B) os pertencentes a qualquer pessoa da administração indireta.
- (C) os edifícios ou terrenos destinados a serviço ou estabelecimento da administração federal, estadual, territorial ou municipal, inclusive os de suas autarquias.
- (D) aqueles que constituem o patrimônio das pessoas jurídicas de direito público, como objeto de direito pessoal, ou real, de cada uma dessas entidades.
- (E) as estradas, ruas e praças.

43. Assinale a alternativa que **não** corresponde a uma classificação dos bens públicos.

- (A) Impenhorável.
- (B) Inalienável.
- (C) Desapropriável.
- (D) Imprescritibilidade.
- (E) Não onerabilidade.

44. Acerca do regime de bens públicos, analise assertivas abaixo.

- I. A União poderá desapropriar os bens dos particulares, dos Estados e dos Municípios.
- II. A Constituição Federal divide as águas do território brasileiro entre a União e os estados membros, não havendo domínio municipal sobre águas públicas.
- III. Permissão de uso de bem público é o ato unilateral, discricionário e precário.
- IV. Os bens públicos não estão sujeitos a usucapião.

É correto o que se afirma em

- (A) I e II, apenas.
- (B) I, II, III e IV.
- (C) I, II e IV, apenas.
- (D) III, apenas.
- (E) I, II e III, apenas.

45. Acerca da classificação dos órgãos da administração, analise as assertivas abaixo.

- I. Os órgãos independentes são aqueles que não sofrem qualquer relação de subordinação.
- II. Órgãos autônomos são aqueles dotados de autonomia, mas subordinados aos órgãos independentes.
- III. Órgãos superiores são aqueles dotados de poder de decisão e não sujeitos a subordinação a qualquer outro.
- IV. Órgãos subalternos são aqueles que não têm poder de decisão.

É correto que se afirma em

- (A) I, II, III e IV.
- (B) III, apenas.
- (C) I e II, apenas.
- (D) I, II e IV, apenas.
- (E) I e IV, apenas.

46. Levando-se em consideração uma classificação dos órgãos públicos quanto à sua estrutura e atuação funcional, analise as assertivas abaixo.

- I. Consideram-se órgãos simples aqueles que não têm órgãos agregados à sua estrutura.
- II. Consideram-se órgãos compostos aqueles em que a decisão deve ser tomada de forma colegiada.
- III. Órgãos singulares são aqueles em que a tomada de decisão cabe a apenas um agente público.
- IV. Órgãos colegiados são aqueles em que a tomada de decisão é feita de forma coletiva, coincidindo, nesse ponto, aos órgãos compostos.

É correto que se afirma em

- (A) II, apenas.
- (B) I e III, apenas.
- (C) I, II, III e IV.
- (D) I, III e IV, apenas.
- (E) I, II e III, apenas.

47. Um cidadão não se conforma com a cobrança de pedágios para utilização de estradas. Segundo ele, é um absurdo que o poder público cobre pagamento para utilização de um bem que pertence a todos. A este respeito, assinale a alternativa correta.

- (A) O cidadão tem razão, pois não poderá haver cobrança pelo uso de bem público.
- (B) O cidadão está equivocado, pois o bem é de uso comum do povo e admite cobrança em decorrência de sua utilização.
- (C) O cidadão está equivocado, pois o bem não pertence a todos.
- (D) O cidadão está correto, porque a estrada é um bem dominical e, portanto, não poderá haver cobrança pela sua utilização.
- (E) O cidadão está correto, porque a estrada é um bem de uso especial e, portanto, não poderá haver cobrança pela sua utilização.

48. São cláusulas essenciais dos contratos administrativos, **exceto**

- (A) confidencialidade.
- (B) preço.
- (C) casos de rescisão.
- (D) direitos e responsabilidades das partes.
- (E) objeto e seus elementos característicos.

49. Sobre a disciplina das licitações públicas na legislação brasileira, marque V para verdadeiro ou F para falso e, em seguida, assinale a alternativa que apresenta a sequência correta.

- ( ) Uma modalidade de licitação mais simples não poderá ser substituída por outra modalidade mais rigorosa. Dessa maneira, se o objeto da licitação recair sobre uma das hipóteses de licitação na modalidade "tomada de preços", esta não poderá ser substituída pela modalidade "concorrência".
- ( ) É vedada a criação de outras modalidades de licitação ou a combinação daquelas já existentes.
- ( ) Os valores das modalidades de licitação para contratação de consórcio público serão duplicados quando este for formado por até três entes da federação.
- ( ) Os valores limite das modalidades de licitação para contratação de consórcio público serão triplicados quando este for formado por número superior a três entes da federação.

- (A) F/ V/ V/ F
- (B) F/ F/ V/ V
- (C) F/ V/ V/ V
- (D) V/ F/ F/ F
- (E) V/ V/ V/ V

50. Observe as situações hipotéticas abaixo e, em seguida, assinale a alternativa correta.

#### Situação 1

Publicado o edital de licitação em determinada cidade. Não compareceu nenhum interessado, e os agentes públicos responsáveis pelo prosseguimento do procedimento licitatório concluíram que a repetição deste resultaria em enorme prejuízo para a administração.

#### Situação 2

Publicado o edital de licitação em outra cidade. Compareceram todos os interessados, mas verificou-se que todos os licitantes foram inabilitados.

- (A) Na situação 1 há licitação deserta e a licitação será dispensável.
- (B) Na situação 2 há licitação deserta e a licitação será dispensável.
- (C) Na situação 2 há licitação fracassada e a administração poderá fixar aos licitantes o prazo de oito dias para apresentação de nova documentação ou de outras propostas escoimadas das causas de inabilitação.
- (D) Em ambas as situações há licitação fracassada e a administração poderá fixar aos licitantes o prazo de oito dias úteis para a apresentação de nova documentação ou de outras propostas escoimadas das causas de inabilitação.
- (E) Em ambas as situações há licitação deserta e a administração poderá considerar dispensável a licitação.